

Caderno de Provas

P 03 - NS

CONTADOR

**EDITAL nº. 001/2018-PREFEITURA MUNICIPAL
DE SANTANA DO MATOS/RN**

05 de agosto de 2018

INSTRUÇÕES GERAIS PARA A REALIZAÇÃO DA PROVA

- Use apenas caneta esferográfica de material transparente com tinta de cor azul ou preta.
- Escreva o seu nome completo e o número do seu documento de identificação no espaço indicado nesta capa.
- A prova terá duração máxima de 3 (três) horas, incluindo o tempo para responder a todas as questões do **Caderno de Provas** e preencher as **Folhas de Respostas**.
- Antes de retirar-se definitivamente da sala, entregue as **Folhas de Respostas** ao fiscal.
- O **Caderno de Provas** somente poderá ser levado depois de transcorridas 3 (três) horas do início da aplicação da prova.
- Este **Caderno de Provas** contém TRINTA questões de múltipla escolha assim distribuídas: 01 a 10 - Língua Portuguesa ; 11 a 15 - Raciocínio Lógico; 16 a 30 - Conhecimentos Específicos.
- Se o **Caderno de Provas** contiver alguma imperfeição gráfica que impeça a leitura, comunique isso imediatamente ao fiscal.
- Você será avaliado exclusivamente por aquilo que marcar dentro dos espaços destinados às respostas na **Folha de Respostas**.
- Cada questão de múltipla escolha apresenta apenas uma resposta correta.
- Questões marcadas em duplicidade, rasuradas ou preenchidas diferentemente das orientações contidas no cartão de respostas anulará a questão.
- Os rascunhos e as marcações feitas neste **Caderno de Provas** não serão considerados para efeito de avaliação.
- Interpretar as questões faz parte da avaliação; portanto, não adianta pedir esclarecimentos aos fiscais.
- O preenchimento da **Folha de Respostas** é de inteira responsabilidade do candidato.
- A quantidade de questões e respectivas pontuações desta prova estão apresentadas a seguir:

<i>Disciplina</i>	<i>Número de questões</i>	<i>Pontos</i>
Língua Portuguesa (Objetivas)	10 questões	30 pontos
Raciocínio Lógico (Objetivas)	05 questões	10 pontos
Conhecimentos Específicos (Objetivas)	15 questões	60 pontos
Total de questões	30 questões	100 pontos

NOME COMPLETO DO CANDIDATO:

IDENTIFICAÇÃO Nº RG:

QUESTÕES DE LÍNGUA PORTUGUESA

As questões de 1 a 10 referem-se ao texto reproduzido a seguir.

Obesidade atinge um em cada cinco adultos no país, diz Ministério da Saúde

A epidemia de obesidade no Brasil começa a dar sinais de estagnação. Dados inéditos do Ministério da Saúde obtidos pelo jornal "O Estado de S. Paulo" mostram que a explosão de casos assistida na última década perdeu ritmo nos dois últimos anos. "Os indicadores apontam para uma tendência de estabilização entre a população das capitais", afirma a diretora do Departamento de Vigilância de Doenças e Agravos Não Transmissíveis do Ministério da Saúde, Maria de Fátima Marinho de Souza.

Os números, no entanto, estão longe de ser tranquilizadores. "Os patamares ainda são muito elevados. Mais do que nunca é preciso reforçar a prevenção", constata. Entre as medidas consideradas cruciais, estão mudanças nas regras de rótulos de alimentos, para que a população possa fazer escolhas mais conscientes, e políticas que permitam maior acesso a frutas e hortaliças.

A pesquisa do Ministério da Saúde mostra que 18,9% da população acima de 18 anos das capitais brasileiras é obesa. O percentual é 60,2% maior que o obtido na primeira vez que o trabalho foi realizado, em 2006. Naquele ano, 11,8% dos entrevistados estavam com Índice de Massa Corporal (IMC) acima de 30. Embora bastante elevados, sobretudo quando comparados com outros países da América do Sul, os indicadores são os mesmos obtidos em 2015.

"Daí a indicação de que a velocidade da expansão começa a cair", afirma Maria de Fátima. O mesmo ocorre com o excesso de peso. Em 11 anos, a expansão da população com peso acima do considerado ideal foi de 26,8%. De 2015 para 2017, contudo, os indicadores permaneceram estáveis. Há três anos, 53,9% da população estava acima do peso. No dado mais recente, 54%. Uma nova pesquisa deverá ter início no fim do ano para comprovar esses dados. No novo estudo, voluntários terão seu peso medido pelos entrevistadores.

Os sinais de estabilização de sobrepeso e obesidade nos últimos dois anos vêm acompanhados de mudanças no comportamento do brasileiro. Ele hoje consome menos refrigerante e bebidas adoçadas que na última década e se exercita um pouco mais. Em 10 anos, a queda do consumo de bebidas foi de 52,8%. Em 2007, 30,9% dos moradores das capitais faziam uso regular desses produtos. Agora, o comportamento é citado por 14,6%.

"Houve uma queda importante, mas o consumo no País ainda é muito alto", afirma a coordenadora de Alimentação e Nutrição do Ministério da Saúde, Michele Lessa. Sobretudo entre a população mais jovem. Na faixa entre 18 e 24 anos, 22,8% consomem refrigerantes e bebidas adoçadas regularmente. "Do ponto de vista nutricional, esses produtos não trazem nenhuma vantagem e têm grande concentração de açúcares. O ideal seria reduzir ao máximo o consumo", afirma Michele. A faixa etária mais jovem é a que mais ingere essas bebidas e, ao mesmo tempo, a que apresentou menor redução de consumo no período analisado: 43,17%

O raciocínio vale ainda para a melhora nos indicadores de consumo de frutas e hortaliças. Os números avançaram positivamente, mas ainda não alcançaram a meta ideal. Entre a população de 18 a 24 anos a ingestão recomendada de pelo menos cinco porções por semana desses alimentos subiu 25%. Mesmo assim, apenas 19,63% consomem esses alimentos nessa frequência. Os números vão melhorando com o passar dos anos de vida. Dos entrevistados com mais de 65 anos, 26,9% fazem o consumo desses alimentos na proporção recomendada.

Além da alimentação, os indicadores de atividade física também melhoraram. Houve um aumento de 24% de pessoas que afirmam se exercitar de forma leve ou moderada. "Todos esses indicadores precisam melhorar. O ideal é que toda população coma ao menos cinco porções de frutas e hortaliças por dia. E que se exercite de forma moderada, mas frequente", avalia Maria de Fátima.

A tarefa, no entanto, não é fácil. "Há dificuldades de acesso, sem falar em preços", diz. Batizada de Vigitel, a pesquisa do Ministério da Saúde é feita por telefone, com população acima de 18 anos residente nas capitais do País. As informações são do jornal O Estado de S. Paulo.

Disponível em: <<https://www.correiobraziliense.com.br>>. Acesso em: 20 jun. 2018.

01. O texto, de forma preponderante, objetiva

- A) criticar a fragilidade das pesquisas sobre obesidade na área da saúde.
- B) explicar os motivos pelos quais a obesidade é um problema epidêmico.
- C) divulgar informação de interesse público sobre o problema da obesidade.
- D) apontar caminhos para criação de políticas de prevenção à obesidade.

02. Nos parágrafos 2 e 4, há a ocorrência de citações do discurso alheio

- A) de autores distintos, sob forma transcrição literal das palavras do autor citado.
- B) de um mesmo autor, sob forma de paráfrase das palavras do autor citado.
- C) de autores distintos, sob forma de paráfrase das palavras do autor citado.
- D) de um mesmo autor, sob forma transcrição literal das palavras do autor citado.

03. Considerando-se a progressão discursiva do texto, é correto afirmar que o parágrafo:

- A) 2 acrescenta uma nova ideia central que estabelece com a ideia do parágrafo 1 uma relação de contraposição.
- B) 2 tão somente continua o desenvolvimento da ideia central do parágrafo 1.
- C) 8 acrescenta uma nova ideia central que estabelece com o parágrafo 7 uma relação de comparação.
- D) 8 tão somente continua o desenvolvimento da ideia central do parágrafo 7.

04. Considere o trecho:

Em 11 anos, a expansão da população com peso acima do considerado ideal foi de 26,8%. De 2015 para 2017, **contudo**, os indicadores permaneceram estáveis.

A palavra em destaque inter-relaciona

- A) períodos e poderia ser substituída, mantendo-se a mesma relação semântica, por **no entanto**.
- B) orações e poderia ser substituída, mantendo-se a mesma relação semântica, por **entretanto**.
- C) períodos e poderia ser substituída, mantendo-se a mesma relação semântica, por **portanto**.
- D) orações e poderia ser substituída, mantendo-se a mesma relação semântica, por **conquanto**.

05. Sobre a linguagem do texto, é correto afirmar que há:

- A) marcas da linguagem oral ao longo do primeiro parágrafo.
- B) o predomínio de estruturas que caracterizam a escrita formal.
- C) o predomínio de um jargão típico de profissionais da área da saúde.
- D) marcas de uma linguagem que identifica uma faixa etária específica.

06. Considere o título do texto:

Obesidade atinge um em cada cinco adultos no país, diz Ministério da Saúde

A estrutura do título autoriza inferir que

- A) a informação de que a obesidade atinge um em cada cinco adultos é de responsabilidade do autor do texto.
- B) a obesidade sempre atingiu e continuará a atingir adultos, no Brasil, na relação de um para cada grupo de cinco.
- C) a obesidade nem sempre atingiu os adultos na relação de um para cada grupo de cinco.
- D) a informação de que a obesidade atinge um em cada cinco adultos pode ser verdadeira ou não.

07. Considere o período:

Ele hoje consome menos refrigerante e bebidas adoçadas que na última década e se exercita um pouco mais.

Considerando-se as relações sintático-semânticas da língua portuguesa, outra pontuação coerente para esse período é:

- A) Ele hoje, consome menos refrigerante e bebidas adoçadas que na última década, e se exercita um pouco mais.
- B) Ele hoje consome menos refrigerante e bebidas adoçadas, que na última década, e se exercita um pouco mais.
- C) Ele, hoje, consome menos refrigerante e bebidas adoçadas que na última década e se exercita um pouco mais.
- D) Ele, hoje consome, menos refrigerante e bebidas adoçadas que na última década e se exercita um pouco mais.

08. Considere os trechos

1 [...] políticas **que permitam maior acesso a frutas e hortaliças.**

2 Dados inéditos do Ministério da Saúde obtidos pelo jornal "O Estado de S. Paulo" mostram **que a explosão de casos assistida na última década perdeu ritmo nos dois últimos anos.**

As estruturas destacadas em 1 e em 2 apresentam, respectivamente, o valor de

- A) advérbio e de substantivo.
- B) adjetivo e de substantivo.
- C) substantivo e de advérbio.
- D) substantivo e de adjetivo.

09. É correto afirmar que o texto apresenta a dominância de estrutura

- A) explicativa, com temática que se insere na esfera da ciência, mas sem usar linguagem científica e, por isso, é um artigo informativo.
- B) argumentativa, com temática que se insere na esfera jornalística, mas sem usar linguagem técnica e, por isso, é um artigo de opinião.
- C) descritiva, com temática que se insere na esfera jornalística, mas sem usar linguagem estritamente formal e, por isso, é uma crônica.
- D) narrativa, com temática que se insere na esfera da ciência, mas sem usar linguagem técnica e, por isso, é um relato.

10. Considere o período:

Os sinais de estabilização de sobrepeso e obesidade nos últimos dois anos **vêm** acompanhados de mudanças no comportamento do brasileiro.

A grafia da palavra em destaque é justificada pela concordância com

- A) “dois anos”, que é predicativo do sujeito”.
- B) “sobrepeso e obesidade”, que é núcleo do predicado.
- C) “mudanças”, que é predicativo do objeto.
- D) “sinais”, que é núcleo do sujeito.

QUESTÕES DE LÓGICA

11. Dentre os servidores de nível superior de uma prefeitura estão 3 advogados, 3 contadores, 6 psicólogos e 8 médicos. Dentre esses, serão selecionados ao acaso três servidores para formar uma comissão. A probabilidade de nessa comissão existir apenas um médico é de, aproximadamente,
- A) 44%.
 - B) 42%.
 - C) 46%.
 - D) 40%.

12. Na sequência numérica 11, 13, 17, 25, 32, ..., o número 95 é o 11º elemento. Mantendo-se a lógica de formação da sequência, a soma do 16º e do 17º elementos é igual a
- A) 276.
 - B) 291.
 - C) 312.
 - D) 336.

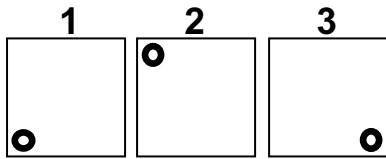
13. Analise as três afirmações do quadro a seguir:

Alberto é Dentista ou Bruna não é Farmacêutica.
Se Bruna não é Farmacêutica, então Daniela é Assistente Social.
Ou Carlos não é Veterinário, ou Daniela não é Assistente Social.

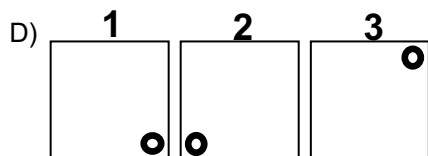
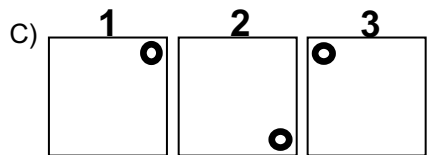
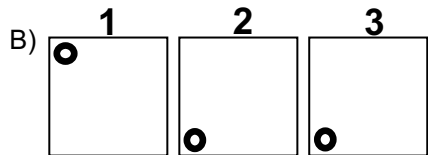
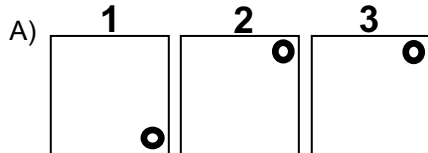
Se todas as afirmações são verdadeiras e Carlos é Veterinário, então, a afirmação que tem valor lógico verdadeiro é

- A) se Carlos é Veterinário, então Bruna não é Farmacêutica.
 - B) Alberto é Dentista e Bruna não é Farmacêutica.
 - C) Daniela é Assistente Social ou Alberto não é Dentista.
 - D) se Daniela é Assistente Social, então Bruna não é Farmacêutica.
14. Temos quatro pessoas, uma atrás da outra, em uma fila de banco. Dois homens estão um na frente do outro. Uma pessoa de cabelos loiros está na frente de uma pessoa de cabelos ruivos. Uma mulher está na frente de um homem. Alguém de cabelos ruivos está atrás de uma pessoa de cabelos pretos. Uma pessoa de cabelos ruivos na frente de alguém com cabelos pretos. Uma mulher está atrás de um homem. Logo, esta fila está formada por
- A) uma mulher de cabelos pretos, um homem de cabelos ruivos, um homem de cabelos pretos e uma mulher de cabelos loiros.
 - B) uma mulher de cabelos loiros, um homem de cabelos ruivos, uma mulher de cabelos pretos e um homem de cabelos ruivos.
 - C) uma mulher de cabelos loiros, um homem de cabelos ruivos, um homem de cabelos pretos e uma mulher de cabelos ruivos.
 - D) uma mulher de cabelos ruivos, um homem de cabelos pretos, um homem de cabelos loiros e uma mulher de cabelos pretos.

15. Observe os quadrados 1, 2 e 3 abaixo e as marcações em seus interiores.



Cada um deles pode ser girado em torno de seu centro. Se os quadrados 1 e 3 só giram em sentido horário e o quadrado 2 só gira em sentido anti-horário, após cada um deles dar um giro de 270° a organização dos quadrados será



QUESTÕES DE CONHECIMENTOS ESPECÍFICOS

16. Livro obrigatório, principal, cronológico, que deverá ser autenticado no órgão competente de registro do comércio. Nele deverão ser lançadas, em ordem cronológica, com individualização e clareza, todas as operações ocorridas e quaisquer outros fatos que provoquem variações patrimoniais.

A descrição acima refere-se ao livro

- A) razão.
- B) caixa.
- C) diário.
- D) contas correntes.

17. O princípio contábil que determina que os efeitos das transações e outros eventos sejam reconhecidos nos períodos a que se referem, independentemente do recebimento ou do pagamento, é chamado de

- A) continuidade.
- B) oportunidade.
- C) competência.
- D) entidade.

18. Suponha que a empresa X, em 01/01/2013, adquiriu um equipamento novo no valor de R\$ 100.000,00, com vida útil de 10 anos. Em 01/01/2016, a empresa Y adquiriu o equipamento da empresa X por R\$ 56.000,00.

Considerando o método de depreciação linear, o valor contábil do bem patrimonial na empresa Y, em 31/12/2017, apresentará o saldo de

- A) R\$ 56.000,00.
- B) R\$ 33.600,00.
- C) R\$ 22.400,00.
- D) R\$ 40.000,00.

19. É correto afirmar que o trabalho da auditoria interna deve

- A) efetuar a revisão e o aperfeiçoamento dos controles internos.
- B) ter maior independência que o de auditoria externa.
- C) emitir parecer a ser publicado com as demonstrações contábeis.
- D) estar subordinado ao da Controladoria da empresa.

20. Havendo incerteza quanto à realização de um ativo, mensurado em bases razoáveis e considerado relevante para as demonstrações contábeis da entidade que está sendo auditada, o auditor independente, nesse caso, é levado a emitir um parecer

- A) com parágrafo de ênfase.
- B) com abstenção de opinião.
- C) com ressalva.
- D) adverso.

21. Quando se diz que o orçamento deverá conter todas as receitas a serem arrecadadas e todas as despesas a serem realizadas num determinado exercício financeiro, estamos nos referindo ao princípio

- A) do orçamento bruto.
- B) da exclusividade.
- C) da unidade.
- D) da universalidade.

22. São créditos adicionais que deverão ser autorizados por lei e abertos por decreto do Poder Executivo:
- A) extraordinários e especiais.
 - B) suplementares e especiais.
 - C) apenas os extraordinários.
 - D) apenas os suplementares.
23. Seguindo a sequência definida legalmente, a despesa pública deverá contemplar as seguintes fases de processamento:
- A) empenho, liquidação e pagamento.
 - B) liquidação, empenho e pagamento.
 - C) empenho, pagamento e liquidação.
 - D) liquidação, pagamento e empenho.
24. Suponha que, como contador(a) da Prefeitura de Santana do Matos, seja solicitado que você realize o empenho em favor da empresa concessionária de fornecimento de energia para o exercício de 2018.
- Nesse caso, a modalidade de empenho a ser realizado será
- A) global.
 - B) ordinário.
 - C) estimativo.
 - D) parcelado.
25. De acordo com a Lei 4.320/1964, constitui-se Inversão Financeira
- A) a aquisição de títulos representativos do capital de empresas já constituídas, que não importe em aumento de capital.
 - B) o aumento do capital de entidades ou empresas que não visem objetivos comerciais ou financeiros, inclusive operações bancárias.
 - C) a constituição do capital de entidades ou empresas que não visem objetivos comerciais ou financeiros, inclusive operações bancárias.
 - D) a participação em constituição ou aumento de capital de empresa ou entidades industriais ou agrícolas.
26. De acordo com a Lei Complementar 101/2000, os percentuais corretos da receita corrente líquida que cada ente da Federação não poderá exceder na despesa total com pessoal, em cada período de apuração, são:
- A) União 60%; estados 50%; e municípios 50%.
 - B) União 50%; estados 60%; e municípios 60%.
 - C) União 50%; estados 60%; e municípios 70%.
 - D) União 60%; estados 60%; e municípios 60%.

27. Relacione os instrumentos de planejamento orçamentário de que dispõem a União, os estados e os municípios a suas respectivas definições.

- 1 – Plano Plurianual
- 2 – Lei das Diretrizes Orçamentárias
- 3 – Lei Orçamentária Anual

- () estima a receita e fixa a despesa para um exercício financeiro.
- () institui as diretrizes, objetivos e metas da administração pública.
- () estabelece as metas e prioridades da administração, bem como orienta a elaboração do orçamento.

Marque a opção que indica a sequência correta.

- A) 3, 2, 1
- B) 2, 1, 3
- C) 2, 3, 1
- D) 3, 1, 2

28. Considere as seguintes informações:

- Despesa Fixada: R\$ 550.000,00
- Despesa Liquidada: R\$ 340.000,00
- Despesa Paga: R\$ 130.000,00
- Despesa Empenhada: R\$ 400.000,00

Com base nesses dados, é correto afirmar que os valores referentes aos Restos a Pagar não-processados e Restos a Pagar processados, são, respectivamente:

- A) R\$ 210.000,00 e R\$ 60.000,00.
- B) R\$ 270.000,00 e R\$ 150.000,00.
- C) R\$ 60.000,00 e R\$ 210.000,00.
- D) R\$ 210.000,00 e R\$ 350.000,00.

29. De acordo com a Lei 4.320/1964, são consideradas despesas correntes:

- A) subvenções sociais, amortização da dívida pública e material de consumo.
- B) inversões financeiras, serviços de terceiros e diversas transferências correntes.
- C) material de consumo, serviços de terceiros e amortização da dívida pública.
- D) subvenções sociais, juros da dívida pública e contribuições de previdência social.

30. De acordo com a Lei 4.320/1964, são consideradas receitas de capital:

- A) operações de crédito, superávit do orçamento corrente e amortização de empréstimos.
- B) receitas patrimonial, agropecuária, industrial, de serviços e de contribuições.
- C) operações de crédito, alienação de bens, transferências de capital e contribuições de melhoria.
- D) transferências de capital, amortização de empréstimos, alienação de bens e receita patrimonial.