

Caderno de Provas

P 07 - NS

FARMACÊUTICO

**EDITAL nº. 001/2018-PREFEITURA MUNICIPAL
DE SANTANA DO MATOS/RN**

05 de agosto de 2018

INSTRUÇÕES GERAIS PARA A REALIZAÇÃO DA PROVA

- Use apenas caneta esferográfica de material transparente com tinta de cor azul ou preta.
- Escreva o seu nome completo e o número do seu documento de identificação no espaço indicado nesta capa.
- A prova terá duração máxima de 3 (três) horas, incluindo o tempo para responder a todas as questões do **Caderno de Provas** e preencher as **Folhas de Respostas**.
- Antes de retirar-se definitivamente da sala, entregue as **Folhas de Respostas** ao fiscal.
- O **Caderno de Provas** somente poderá ser levado depois de transcorridas 3 (três) horas do início da aplicação da prova.
- Este **Caderno de Provas** contém TRINTA questões de múltipla escolha assim distribuídas: 01 a 10 - Língua Portuguesa ; 11 a 15 - Raciocínio Lógico; 16 a 30 - Conhecimentos Específicos.
- Se o **Caderno de Provas** contiver alguma imperfeição gráfica que impeça a leitura, comunique isso imediatamente ao fiscal.
- Você será avaliado exclusivamente por aquilo que marcar dentro dos espaços destinados às respostas na **Folha de Respostas**.
- Cada questão de múltipla escolha apresenta apenas uma resposta correta.
- Questões marcadas em duplicidade, rasuradas ou preenchidas diferentemente das orientações contidas no cartão de respostas anulará a questão.
- Os rascunhos e as marcações feitas neste **Caderno de Provas** não serão considerados para efeito de avaliação.
- Interpretar as questões faz parte da avaliação; portanto, não adianta pedir esclarecimentos aos fiscais.
- O preenchimento da **Folha de Respostas** é de inteira responsabilidade do candidato.
- A quantidade de questões e respectivas pontuações desta prova estão apresentadas a seguir:

<i>Disciplina</i>	<i>Número de questões</i>	<i>Pontos</i>
Língua Portuguesa (Objetivas)	10 questões	30 pontos
Raciocínio Lógico (Objetivas)	05 questões	10 pontos
Conhecimentos Específicos (Objetivas)	15 questões	60 pontos
Total de questões	30 questões	100 pontos

NOME COMPLETO DO CANDIDATO:

IDENTIFICAÇÃO Nº RG:

QUESTÕES DE LÍNGUA PORTUGUESA

As questões de 1 a 10 referem-se ao texto reproduzido a seguir.

Obesidade atinge um em cada cinco adultos no país, diz Ministério da Saúde

A epidemia de obesidade no Brasil começa a dar sinais de estagnação. Dados inéditos do Ministério da Saúde obtidos pelo jornal "O Estado de S. Paulo" mostram que a explosão de casos assistida na última década perdeu ritmo nos dois últimos anos. "Os indicadores apontam para uma tendência de estabilização entre a população das capitais", afirma a diretora do Departamento de Vigilância de Doenças e Agravos Não Transmissíveis do Ministério da Saúde, Maria de Fátima Marinho de Souza.

Os números, no entanto, estão longe de ser tranquilizadores. "Os patamares ainda são muito elevados. Mais do que nunca é preciso reforçar a prevenção", constata. Entre as medidas consideradas cruciais, estão mudanças nas regras de rótulos de alimentos, para que a população possa fazer escolhas mais conscientes, e políticas que permitam maior acesso a frutas e hortaliças.

A pesquisa do Ministério da Saúde mostra que 18,9% da população acima de 18 anos das capitais brasileiras é obesa. O percentual é 60,2% maior que o obtido na primeira vez que o trabalho foi realizado, em 2006. Naquele ano, 11,8% dos entrevistados estavam com Índice de Massa Corporal (IMC) acima de 30. Embora bastante elevados, sobretudo quando comparados com outros países da América do Sul, os indicadores são os mesmos obtidos em 2015.

"Daí a indicação de que a velocidade da expansão começa a cair", afirma Maria de Fátima. O mesmo ocorre com o excesso de peso. Em 11 anos, a expansão da população com peso acima do considerado ideal foi de 26,8%. De 2015 para 2017, contudo, os indicadores permaneceram estáveis. Há três anos, 53,9% da população estava acima do peso. No dado mais recente, 54%. Uma nova pesquisa deverá ter início no fim do ano para comprovar esses dados. No novo estudo, voluntários terão seu peso medido pelos entrevistadores.

Os sinais de estabilização de sobrepeso e obesidade nos últimos dois anos vêm acompanhados de mudanças no comportamento do brasileiro. Ele hoje consome menos refrigerante e bebidas adoçadas que na última década e se exercita um pouco mais. Em 10 anos, a queda do consumo de bebidas foi de 52,8%. Em 2007, 30,9% dos moradores das capitais faziam uso regular desses produtos. Agora, o comportamento é citado por 14,6%.

"Houve uma queda importante, mas o consumo no País ainda é muito alto", afirma a coordenadora de Alimentação e Nutrição do Ministério da Saúde, Michele Lessa. Sobretudo entre a população mais jovem. Na faixa entre 18 e 24 anos, 22,8% consomem refrigerantes e bebidas adoçadas regularmente. "Do ponto de vista nutricional, esses produtos não trazem nenhuma vantagem e têm grande concentração de açúcares. O ideal seria reduzir ao máximo o consumo", afirma Michele. A faixa etária mais jovem é a que mais ingere essas bebidas e, ao mesmo tempo, a que apresentou menor redução de consumo no período analisado: 43,17%

O raciocínio vale ainda para a melhora nos indicadores de consumo de frutas e hortaliças. Os números avançaram positivamente, mas ainda não alcançaram a meta ideal. Entre a população de 18 a 24 anos a ingestão recomendada de pelo menos cinco porções por semana desses alimentos subiu 25%. Mesmo assim, apenas 19,63% consomem esses alimentos nessa frequência. Os números vão melhorando com o passar dos anos de vida. Dos entrevistados com mais de 65 anos, 26,9% fazem o consumo desses alimentos na proporção recomendada.

Além da alimentação, os indicadores de atividade física também melhoraram. Houve um aumento de 24% de pessoas que afirmam se exercitar de forma leve ou moderada. "Todos esses indicadores precisam melhorar. O ideal é que toda população coma ao menos cinco porções de frutas e hortaliças por dia. E que se exercite de forma moderada, mas frequente", avalia Maria de Fátima.

A tarefa, no entanto, não é fácil. "Há dificuldades de acesso, sem falar em preços", diz. Batizada de Vigitel, a pesquisa do Ministério da Saúde é feita por telefone, com população acima de 18 anos residente nas capitais do País. As informações são do jornal O Estado de S. Paulo.

Disponível em: <<https://www.correiobraziliense.com.br>>. Acesso em: 20 jun. 2018.

01. O texto, de forma preponderante, objetiva

- A) criticar a fragilidade das pesquisas sobre obesidade na área da saúde.
- B) explicar os motivos pelos quais a obesidade é um problema epidêmico.
- C) divulgar informação de interesse público sobre o problema da obesidade.
- D) apontar caminhos para criação de políticas de prevenção à obesidade.

02. Nos parágrafos 2 e 4, há a ocorrência de citações do discurso alheio

- A) de autores distintos, sob forma transcrição literal das palavras do autor citado.
- B) de um mesmo autor, sob forma de paráfrase das palavras do autor citado.
- C) de autores distintos, sob forma de paráfrase das palavras do autor citado.
- D) de um mesmo autor, sob forma transcrição literal das palavras do autor citado.

03. Considerando-se a progressão discursiva do texto, é correto afirmar que o parágrafo:

- A) 2 acrescenta uma nova ideia central que estabelece com a ideia do parágrafo 1 uma relação de contraposição.
- B) 2 tão somente continua o desenvolvimento da ideia central do parágrafo 1.
- C) 8 acrescenta uma nova ideia central que estabelece com o parágrafo 7 uma relação de comparação.
- D) 8 tão somente continua o desenvolvimento da ideia central do parágrafo 7.

04. Considere o trecho:

Em 11 anos, a expansão da população com peso acima do considerado ideal foi de 26,8%. De 2015 para 2017, **contudo**, os indicadores permaneceram estáveis.

A palavra em destaque inter-relaciona

- A) períodos e poderia ser substituída, mantendo-se a mesma relação semântica, por **no entanto**.
- B) orações e poderia ser substituída, mantendo-se a mesma relação semântica, por **entretanto**.
- C) períodos e poderia ser substituída, mantendo-se a mesma relação semântica, por **portanto**.
- D) orações e poderia ser substituída, mantendo-se a mesma relação semântica, por **conquanto**.

05. Sobre a linguagem do texto, é correto afirmar que há:

- A) marcas da linguagem oral ao longo do primeiro parágrafo.
- B) o predomínio de estruturas que caracterizam a escrita formal.
- C) o predomínio de um jargão típico de profissionais da área da saúde.
- D) marcas de uma linguagem que identifica uma faixa etária específica.

06. Considere o título do texto:

Obesidade atinge um em cada cinco adultos no país, diz Ministério da Saúde

A estrutura do título autoriza inferir que

- A) a informação de que a obesidade atinge um em cada cinco adultos é de responsabilidade do autor do texto.
- B) a obesidade sempre atingiu e continuará a atingir adultos, no Brasil, na relação de um para cada grupo de cinco.
- C) a obesidade nem sempre atingiu os adultos na relação de um para cada grupo de cinco.
- D) a informação de que a obesidade atinge um em cada cinco adultos pode ser verdadeira ou não.

07. Considere o período:

Ele hoje consome menos refrigerante e bebidas adoçadas que na última década e se exercita um pouco mais.

Considerando-se as relações sintático-semânticas da língua portuguesa, outra pontuação coerente para esse período é:

- A) Ele hoje, consome menos refrigerante e bebidas adoçadas que na última década, e se exercita um pouco mais.
- B) Ele hoje consome menos refrigerante e bebidas adoçadas, que na última década, e se exercita um pouco mais.
- C) Ele, hoje, consome menos refrigerante e bebidas adoçadas que na última década e se exercita um pouco mais.
- D) Ele, hoje consome, menos refrigerante e bebidas adoçadas que na última década e se exercita um pouco mais.

08. Considere os trechos

1 [...] políticas **que permitam maior acesso a frutas e hortaliças.**

2 Dados inéditos do Ministério da Saúde obtidos pelo jornal "O Estado de S. Paulo" mostram **que a explosão de casos assistida na última década perdeu ritmo nos dois últimos anos.**

As estruturas destacadas em 1 e em 2 apresentam, respectivamente, o valor de

- A) advérbio e de substantivo.
- B) adjetivo e de substantivo.
- C) substantivo e de advérbio.
- D) substantivo e de adjetivo.

09. É correto afirmar que o texto apresenta a dominância de estrutura

- A) explicativa, com temática que se insere na esfera da ciência, mas sem usar linguagem científica e, por isso, é um artigo informativo.
- B) argumentativa, com temática que se insere na esfera jornalística, mas sem usar linguagem técnica e, por isso, é um artigo de opinião.
- C) descritiva, com temática que se insere na esfera jornalística, mas sem usar linguagem estritamente formal e, por isso, é uma crônica.
- D) narrativa, com temática que se insere na esfera da ciência, mas sem usar linguagem técnica e, por isso, é um relato.

10. Considere o período:

Os sinais de estabilização de sobrepeso e obesidade nos últimos dois anos **vêm** acompanhados de mudanças no comportamento do brasileiro.

A grafia da palavra em destaque é justificada pela concordância com

- A) “dois anos”, que é predicativo do sujeito”.
- B) “sobrepeso e obesidade”, que é núcleo do predicado.
- C) “mudanças”, que é predicativo do objeto.
- D) “sinais”, que é núcleo do sujeito.

QUESTÕES DE LÓGICA

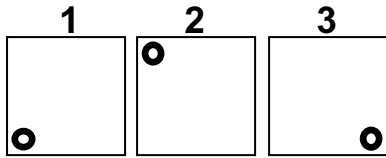
11. Dentre os servidores de nível superior de uma prefeitura estão 3 advogados, 3 contadores, 6 psicólogos e 8 médicos. Dentre esses, serão selecionados ao acaso três servidores para formar uma comissão. A probabilidade de nessa comissão existir apenas um médico é de, aproximadamente,
- A) 44%.
 B) 42%.
 C) 46%.
 D) 40%.
12. Na sequência numérica 11, 13, 17, 25, 32, ..., o número 95 é o 11º elemento. Mantendo-se a lógica de formação da sequência, a soma do 16º e do 17º elementos é igual a
- A) 276.
 B) 291.
 C) 312.
 D) 336.
13. Analise as três afirmações do quadro a seguir:

Alberto é Dentista ou Bruna não é Farmacêutica.
Se Bruna não é Farmacêutica, então Daniela é Assistente Social.
Ou Carlos não é Veterinário, ou Daniela não é Assistente Social.

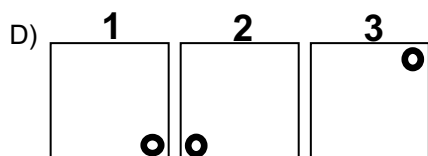
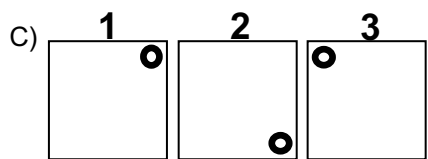
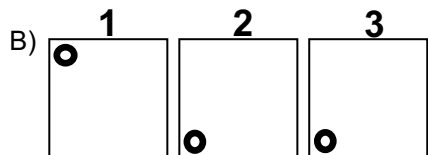
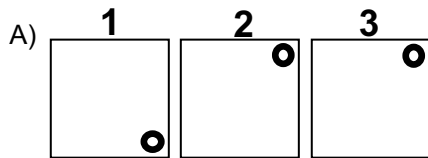
Se todas as afirmações são verdadeiras e Carlos é Veterinário, então, a afirmação que tem valor lógico verdadeiro é

- A) se Carlos é Veterinário, então Bruna não é Farmacêutica.
 B) Alberto é Dentista e Bruna não é Farmacêutica.
 C) Daniela é Assistente Social ou Alberto não é Dentista.
 D) se Daniela é Assistente Social, então Bruna não é Farmacêutica.
14. Temos quatro pessoas, uma atrás da outra, em uma fila de banco. Dois homens estão um na frente do outro. Uma pessoa de cabelos loiros está na frente de uma pessoa de cabelos ruivos. Uma mulher está na frente de um homem. Alguém de cabelos ruivos está atrás de uma pessoa de cabelos pretos. Uma pessoa de cabelos ruivos na frente de alguém com cabelos pretos. Uma mulher está atrás de um homem. Logo, esta fila está formada por
- A) uma mulher de cabelos pretos, um homem de cabelos ruivos, um homem de cabelos pretos e uma mulher de cabelos loiros.
 B) uma mulher de cabelos loiros, um homem de cabelos ruivos, uma mulher de cabelos pretos e um homem de cabelos ruivos.
 C) uma mulher de cabelos loiros, um homem de cabelos ruivos, um homem de cabelos pretos e uma mulher de cabelos ruivos.
 D) uma mulher de cabelos ruivos, um homem de cabelos pretos, um homem de cabelos loiros e uma mulher de cabelos pretos.

15. Observe os quadrados 1, 2 e 3 abaixo e as marcações em seus interiores.



Cada um deles pode ser girado em torno de seu centro. Se os quadrados 1 e 3 só giram em sentido horário e o quadrado 2 só gira em sentido anti-horário, após cada um deles dar um giro de 270° a organização dos quadrados será



QUESTÕES DE CONHECIMENTOS ESPECÍFICOS

16. A lei 8.666, de 21 de junho de 1993, institui normas para licitações e contratos da administração pública.

Na seção IV art. 13 desta lei considera serviços técnicos profissionais especializados, dentre outros os trabalhos relativos a

- A) economia na execução, conservação e operação.
- B) balizar-se pelos preços praticados nos âmbitos dos órgãos e entidades de administração pública.
- C) pareceres, perícias, avaliações em geral, treinamentos e aperfeiçoamento de pessoal.
- D) observar a especificação completa do bem a ser adquirido.

17. De acordo com a portaria SVS/MS nº344/98, o medicamento Hemitartarato de Zolpidem na dosagem de 10mg, deve ser prescrita em
- A) receita de controle especial em 2 (duas) vias.
 - B) receita do tipo B de cor azul.
 - C) receita do tipo A de cor amarela.
 - D) receita do tipo C de cor branca.
18. A resolução do CFF nº 585, de 29 de agosto de 2013, regulamenta
- A) as atribuições técnico-gerenciais do farmacêutico na gestão da assistência farmacêutica no âmbito do Sistema Único de Saúde (SUS).
 - B) a prescrição farmacêutica e dá outras atribuições.
 - C) os requisitos necessários à prestação do serviço de vacinação e dá outras providências.
 - D) as atribuições dispostas aos direitos, responsabilidades e competência do farmacêutico no desenvolvimento das atividades clínicas e na provisão do serviço farmacêutico.
19. São exemplos de fármacos que sofrem metabolismo hepático substancial e exibem biodisponibilidade baixa quando administrados por via oral
- A) Biperideno e Diclofenaco de Sódio.
 - B) Nitroglicerina e Imipramina.
 - C) Meloxicam e Verapamil.
 - D) Dipirona e Ácido Acetilsalicílico.
20. Em colites pseudomembranosas causadas pelo *Clostridium difficile*, a vancomicina deixou de ser a droga de escolha devido a influência a seleção de enterococos vancomicina resistentes (VRE). Além do que, a antibioticoterapia altera a flora gastrointestinal permitindo o crescimento excessivo do *C. difficile* que produz a Toxina A, a qual provoca diarreia.
- Neste contexto, um medicamento, que deverá ser utilizado para o tratamento de colites pseudomembranosas, é o
- A) fluconazol.
 - B) teicoplanina.
 - C) metronidazol.
 - D) levofloxacino.
21. A programação de medicamentos, parte integrante do ciclo da Assistência Farmacêutica, objetiva garantir a disponibilidade dos medicamentos selecionados nas quantidades adequadas e no tempo oportuno para atender à demanda da população.
- O método de programação que é empregado, quando não se tem disponibilidade de dados e se extrapolam os dados de consumo de outras regiões ou sistemas, é conhecido como
- A) perfil epidemiológico.
 - B) consumo histórico.
 - C) oferta de serviço.
 - D) consumo ajustado.

22. Segundo o Código de Ética da profissão Farmacêutica (Resolução CFF nº 417/2004), o farmacêutico
- A) só deve estar inscrito em um Conselho Regional de Farmácia se estiver em exercício efetivo da profissão.
 - B) pode aceitar piso salarial abaixo do estabelecido regionalmente nos dissídios.
 - C) pode ou não exercer a profissão farmacêutica quando estiver sob a sanção disciplinar de suspensão.
 - D) deve comunicar ao Conselho Regional de Farmácia sobre seu afastamento do emprego por motivo de doença, acidente pessoal, óbito familiar dentre outros em no máximo 05 (cinco) dias úteis.

23. O Programa Nacional de Qualificação da Assistência Farmacêutica (Qualifar SUS) está organizado nos seguintes eixos de atuação:

- A) estrutura, educação, informação e cuidado.
- B) estrutura, aprimoramento, integração e cuidado.
- C) aprimoramento, implementação, informação e atendimento domiciliar.
- D) atenção básica, implementação, estrutura e educação.

24. Para garantir o uso racional dos medicamentos, é necessário elaborar a lista de medicamentos padronizados a partir de uma reflexão crítica sobre a escolha e a utilização dos fármacos e desenvolver, intensa e continuamente, um processo de educação farmacológica dos profissionais de saúde do hospital.

Com relação à importância da seleção e padronização de fármacos utilizados no ambiente hospitalar, é correto afirmar que

- A) o número de associações farmacêuticas que oferecem vantagem real sobre os medicamentos simples é elevado.
- B) a forma farmacêutica não é considerada na padronização dos medicamentos, cabendo ao corpo médico defini-la.
- C) o número de fármacos disponíveis no mercado com a mesma indicação terapêutica é elevado, no entanto, diferenciam-se pela toxicidade, estabilidade, eficácia e custo, dentre outros.
- D) a seleção de fármacos deve ser realizada apenas pelo farmacêutico com avaliação de critérios científicos e econômicos, garantindo agilidade na manipulação e dispensação dos medicamentos.

25. A absorção, distribuição, biotransformação e eliminação do fármaco e de seus metabólitos no organismo são a base da Farmacocinética.

Em relação ao mecanismo geral da ação dos fármacos, marque a opção correta.

- A) A lipossolubilidade influencia fortemente na passagem do fármaco para o filtrado glomerular, desde que os fármacos não estejam ligados à albumina.
- B) A via transdermal tem como característica a oferta prolongada do fármaco, por conta da velocidade de absorção. A nitroglicerina, fármaco antianginoso é administrada por esta via.
- C) É utilizada a via sublingual para fármacos bem absorvidos no trato gastrointestinal, como a insulina.
- D) É considerado bioequivalente o fármaco com relação de biodisponibilidades significativamente diferentes, desde que apresente tempos diferentes para o pico de concentração plasmática.

26. A Lista de Notificação Compulsória refere-se a doenças, agravos e eventos de importância para a saúde pública de abrangência nacional em toda a rede de saúde pública e privada.

Nesse contexto, assinale a opção em que todas as doenças são de notificação compulsória semanal.

- A) Botulismo, Tétano, Tuberculose, acidente de trabalho com exposição a material biológico.
 - B) Dengue (óbitos), violência doméstica, Doença de Chagas Aguda, Sífilis.
 - C) Febre Amarela, Hanseníase, Leptospirose, Raiva Humana.
 - D) Dengue (casos), Infecção pelo Vírus da Imunodeficiência Humana (HIV), Esquistossomose, Febre de Chikungunya.
27. De acordo com a RDC nº 36/2004 da Agência Nacional de Vigilância Sanitária (ANVISA), o manuseio de resíduos nos serviços de saúde, deve focar os aspectos intra e extra estabelecimento, indo desde a geração até a disposição final, incluindo dentre outras as seguintes etapas:
- A) segregação, transporte interno, coleta e transporte externo.
 - B) geração, preservação dos recursos naturais e varrição.
 - C) produção, conservação e disposição final.
 - D) segregação, armazenamento e reciclagem dos perfuro-cortantes.

28. A Amoxicilina é indicada para tratamento de infecções bacterianas, e a Venlafaxina é um antidepressivo.

Quando utilizadas concomitantemente,

- A) é possível ocorrer um aumento da toxicidade da Venlafaxina, caracterizada por dores e fraqueza muscular, evoluindo para uma rabdomiólise.
 - B) a Amoxicilina pode aumentar a concentração sanguínea da Venlafaxina, levando aos sintomas de toxicidade como: ataxia, cefaleia intensa e coma.
 - C) é possível ocorrer um aumento do risco para a síndrome serotoninérgica, caracterizada por sensação de cabeça vazia, transpiração, tontura, boca seca, agitação e delírio.
 - D) a hepatotoxicidade causada por essa interação pode ser fulminante.
29. A CPM (Comissão de Padronização de Medicamentos) determina quais os medicamentos devem ser disponibilizado em um hospital.

Segundo a CPM, o principal fator que deve ser observado na aquisição de um medicamento é a

- A) variação de preço.
 - B) disponibilidade.
 - C) seletividade.
 - D) qualidade.
30. A respeito do controle de estoque de medicamentos em farmácias hospitalares, é correto afirmar que
- A) para evitar um alto índice de rotatividade dos itens de classe A, é recomendável que eles apresentem um estoque de segurança maior que os itens de classe B.
 - B) a curva ABC auxilia no controle de estoques, na avaliação dos medicamentos padronizados, podendo, inclusive, sugerir a exclusão de itens com pouca ou nenhuma saída.
 - C) o estoque mínimo, e a quantidade mínima que deve ser mantida em estoque, é determinado pelo consumo médio mensal multiplicado pela rotatividade do item.
 - D) a soma do tempo de espera e o consumo médio mensal resultam no ponto de requisição de determinado item.