


Caderno de Provas

Edital Nº. 041/2021 – PROEN/IFRN

Data: ____/____/____

INSTRUÇÕES GERAIS PARA A REALIZAÇÃO DA PROVA

- Use apenas caneta esferográfica azul ou preta.
- Escreva a data, a sua assinatura e o seu número de inscrição no espaço indicado nesta capa.
- O candidato receberá 2 (duas) **Folhas de Respostas**: uma para responder às **questões de múltipla escolha** e outra para redigir a **Produção Textual**.
- A prova terá duração máxima de 4 (quatro) horas, incluindo o tempo para responder a todas as questões do **Caderno de Provas** e preencher as **Folhas de Respostas**.
- Antes de retirar-se definitivamente da sala, entregue as **Folhas de Respostas** ao fiscal.
- O **Caderno de Provas** só poderá ser levado pelo candidato após decorridas 04h do início da prova.
- Este **Caderno de Provas** contém, respectivamente, 20 (vinte) questões de Conhecimentos da Língua Portuguesa, 20 (vinte) questões de Matemática e 01 (uma) Produção Textual.
- Se o **Caderno de Provas** contiver alguma imperfeição gráfica que impeça a leitura, comunique isso imediatamente ao Fiscal.
- Cada questão de múltipla escolha apresenta apenas **uma** resposta correta. Para a marcação da alternativa escolhida na **Folha de Respostas**, pinte completamente o campo correspondente conforme a figura a seguir:



- Os rascunhos e as marcações feitas neste **Caderno de Provas** não serão considerados para efeito de avaliação.
- Interpretar as questões faz parte da avaliação; portanto, não é permitido solicitar esclarecimentos aos Fiscais.
- O preenchimento das **Folhas de Respostas** é de sua inteira responsabilidade.
- A quantidade de questões objetivas e respectivas pontuações desta prova estão apresentadas a seguir:

<i>Disciplina</i>	<i>Número de questões</i>	<i>Pontos</i>
Língua Portuguesa (Objetivas)	20 questões	100 pontos
Matemática (Objetivas)	20 questões	100 pontos
Produção Textual (Discursiva)	01 questão	100 pontos

ASSINATURA DO CANDIDATO:

NÚMERO DE INSCRIÇÃO:

QUESTÕES DE MÚLTIPLA ESCOLHA – LÍNGUA PORTUGUESA

Leia os textos 1, 2 e 3 para responder às questões desta prova.

TEXTO 1

Estudo mostra que o número de invasões em terras indígenas aumentou

05/10/2019 20h59

Uma das questões que vão ser abordadas no Sínodo, no Vaticano, será a situação dos índios que vivem na região amazônica

Estudo mostra que o número de invasões em terras indígenas aumentou. Uma das questões que vão ser abordadas no Sínodo, no Vaticano, será a situação dos índios que vivem na região amazônica. Um estudo do Conselho Indigenista Missionário (CIMI) mostra que o número de invasões em terras indígenas aumentou em 2019.

Na terra indígena Alto Rio Guamá, nordeste do Pará, vivem cerca de dois mil índios, a maioria do povo Tembé. Lá, segundo os caciques, os invasores derrubam a mata nativa para retirar madeira, para a criação de gado e até para plantar maconha. Em setembro, os índios já tinham encontrado acampamentos, espingardas e várias pilhas de madeira em uma área a 30 quilômetros da aldeia. O Ibama, em parceria com a Polícia Federal e a Funai, foi até a região e aplicou cerca de R\$ 10 milhões em multas.

"A nossa área preservada tem muito fundamento para a questão indígena, porque sem a área preservada nós não temos como mostrar a nossa cultura", declara Edinaldo Tembé, cacique Tembé. A grilagem de terra, o desmatamento, o garimpo ilegal e a contaminação dos rios estão entre os principais problemas apontados no relatório sobre violência e invasões nas terras indígenas do CIMI, fundado há 47 anos e ligado à Igreja Católica.

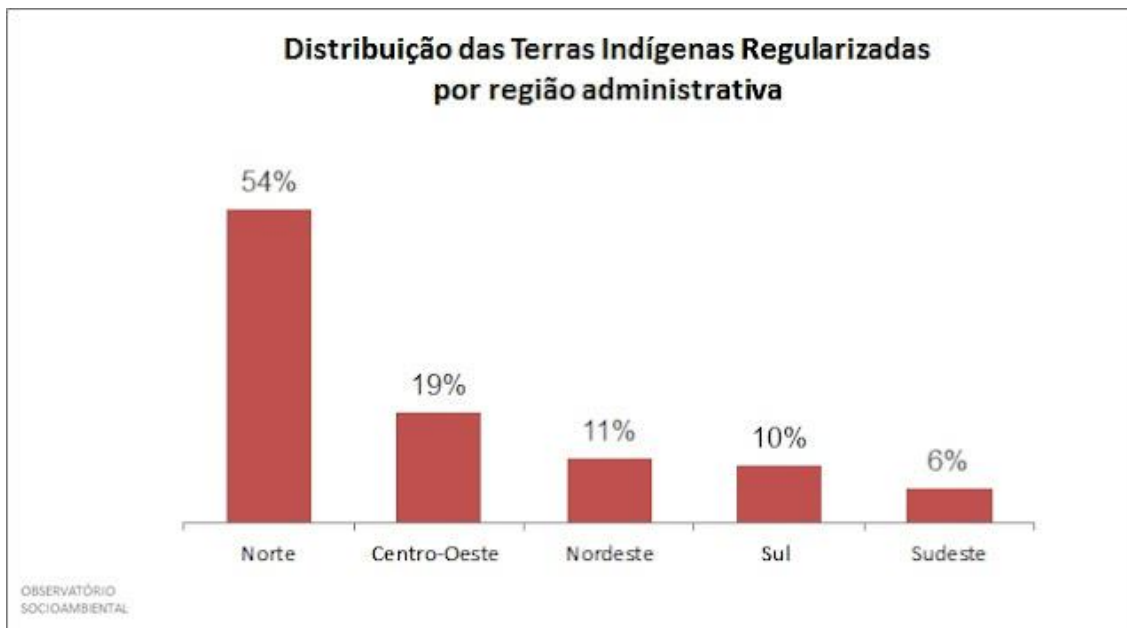
Segundo o levantamento, em 2017, foram 96 invasões em terras indígenas. Em 2018, o número subiu para 111 e apenas de janeiro a setembro de 2019, já foram registradas 160 invasões. Pará, Rondônia e Amazonas são os estados onde houve mais invasões no ano passado. Uma das áreas citadas no relatório é a terra indígena Munduruku, no sudoeste do Pará. De acordo com o CIMI, existem mais de 500 garimpos ilegais na região, desmatando e poluindo os rios da bacia do Tapajós.

O bispo emérito do Xingu, que vai participar do Sínodo no Vaticano, defendeu que os índios precisam ter suas terras protegidas. "Terra é ambiente de se morar, de se viver, é terra dos ritos e dos mitos e de toda a convivência dos povos que estão aqui e isso não pode ser menosprezado, desprezado", afirma Dom Erwim Krautler.

A Funai declarou que se tem empenhado no monitoramento da região com a ajuda da Polícia Federal, do Ibama e do Instituto Chico Mendes. Disse que a pesquisa do CIMI carece de validação científica e que, em breve, vai divulgar dados oficiais que comprovam o aumento da fiscalização. Para tentar acabar com o garimpo ilegal, o governo já anunciou que vai propor a regulamentação da Constituição nos artigos sobre exploração em terras indígenas. A ideia seria permitir ganhos econômicos e organizar a fiscalização dos garimpos. Antes de qualquer mudança, o governo tem que ouvir as comunidades envolvidas.


Disponível em: <https://g1.globo.com/jornal-nacional/noticia/2019/10/05/estudo-mostra-que-o-numero-de-invasoes-em-terras-indigena>. Acesso em: 24 set. 2021. Adaptado para uso nesta avaliação.

TEXTO 2



Disponível em: <http://www.observatoriosocioambiental.org/2017/10/descumprindo-ordens-judiciais-e-termo.html>. Acesso em: 24 set. 2021.

TEXTO 3



Disponível em: <https://twitter.com/latuffcartoons/status/760446245869645824>. Acesso em: 24 set. 2021.

01. A leitura do Texto 1 permite inferir que

- A) o governo tem ouvido as comunidades indígenas envolvidas em conflitos de terra.
- B) as invasões constantes de terras indígenas interferem na preservação da cultura desses povos.
- C) as organizações não governamentais desconhecem o problema da invasão de terras indígenas.
- D) o Ibama, a Polícia Federal e a Funai comprovam as fiscalizações realizadas em terras indígenas.

02. O Texto 1

- A) noticia, incluindo certa crítica, que o número de invasões em terras indígenas aumentou.
- B) descreve, de forma imparcial, como as terras indígenas estão sendo desmatadas.
- C) narra, incluindo opiniões, as ações de invasão que estão ocorrendo nas terras indígenas.
- D) defende, de forma velada, a posição do governo em relação ao desmatamento das terras indígenas.

03. No último parágrafo do Texto 1, predomina a

- A) narração, devido à presença de verbos no presente.
- B) argumentação, devido à presença de progressão textual.
- C) narração, pois há uma relação temporal entre os enunciados.
- D) argumentação, pois há um posicionamento sobre a temática.

Leia o trecho a seguir para responder às questões 04, 05 e 06.

Lá, segundo os caciques, os invasores derrubam a mata nativa **para** retirar madeira, para a criação de gado e **até** para plantar maconha.

04. Considerando sua inserção no Texto 1, o vocábulo **LÁ** refere-se a

- A) “povo Tembé”.
- B) “terra indígena Alto Rio Guamá”.
- C) “mata nativa”.
- D) “caciques”.

05. O vocábulo **PARA**, assinalado no trecho acima, estabelece com a oração seguinte uma relação de

- A) condição.
- B) temporalidade.
- C) consequência.
- D) finalidade.

06. No trecho, o uso do vocábulo **ATÉ**

- A) manifesta a concordância do autor com o fato de se desmatar para plantar maconha.
- B) indica um limite espacial para a plantação de maconha na mata devastada.
- C) expressa a indignação do autor em relação ao motivo pelo qual a terra foi devastada.
- D) limita a três as atividades que provocaram o desmatamento da mata nativa.

07. Assinale a opção que apresenta um trecho em que o uso da vírgula se justifica pelo mesmo motivo de “Segundo o levantamento, em 2017, foram 96 invasões em terras indígenas.”.
- A) “Pará, Rondônia e Amazonas são os estados onde houve mais invasões no ano passado.”.
 - B) “Lá, segundo os caciques, os invasores derrubam a mata nativa para retirar madeira, [...]”
 - C) “O bispo emérito do Xingu, que vai participar do Sínodo no Vaticano, defendeu que os índios precisam ter suas terras protegidas.”
 - D) “A nossa área preservada tem muito fundamento para a questão indígena, porque sem a área preservada nós não temos como mostrar a nossa cultura” [...].

Considere o trecho para responder à questão 8

Segundo o levantamento, em 2017, foram 96 invasões em terras indígenas.

08. O termo destacado **SEGUNDO**, sem prejuízo ao sentido original no trecho, pode ser substituído por
- A) de acordo com.
 - B) mesmo com.
 - C) apesar de.
 - D) tal qual.

Considere o trecho abaixo retirado do Texto 1 para responder às questões 09, 10, 11 e 12.

Pará, Rondônia e Amazonas são os estados onde houve mais invasões no ano passado. Uma das áreas citadas no relatório é a terra indígena Munduruku, no sudoeste do Pará. De acordo com o CIMI, existem mais de 500 garimpos ilegais na região, desmatando e poluindo os rios da bacia do Tapajós.

09. Assinale a opção que substitui, respeitando a norma-padrão, a forma verbal **HOUVE** destacada no trecho.
- A) aconteceram.
 - B) aconteciam.
 - C) aconteceu.
 - D) acontecia.
10. O trecho possui
- A) três períodos e quatro orações.
 - B) três períodos e seis orações.
 - C) dois períodos e cinco orações.
 - D) dois períodos e três orações.
11. O termo destacado **DO TAPAJÓS** é um
- A) complemento nominal e complementa o sentido do termo “bacia”
 - B) aposto explicativo e explica o sentido do termo “rios”.
 - C) adjunto adnominal e especifica o termo “bacia”.
 - D) adjunto adverbial e determina o local dos rios.

12. O vocábulo destacado **RELATÓRIO** recebeu acento agudo pelo mesmo motivo de
- A) polícia.
 - B) indígenas.
 - C) emérito.
 - D) sínodo.
13. A intenção comunicativa prioritária do Texto 2 é
- A) convencer as autoridades sobre a necessidade de regulamentar terras indígenas.
 - B) sensibilizar o leitor de cada região sobre a situação de suas terras indígenas.
 - C) destacar a Região Norte pela quantidade de terras indígenas regularizadas.
 - D) informar o percentual de terras indígenas regularizadas por região brasileira.
14. As informações presentes no Texto 2 permitem afirmar que
- A) na região Sudeste é onde vive a menor quantidade de índios do país.
 - B) o número de índios que vivem na região Sul é menor do que o número de índios que vivem no Nordeste.
 - C) a região Norte é onde se localiza o maior percentual de terras indígenas regularizadas.
 - D) o percentual de terras indígenas regularizadas no Centro-Oeste é 4 vezes menor do que o percentual de terras regularizadas no Norte.
15. O **marco temporal** estabelece que só poderão solicitar demarcações os povos que comprovarem que habitavam a área requerida na data de promulgação da Constituição Federal, ou seja, em 5 de outubro de 1988. Considerando essa informação e a leitura da linguagem verbal e da não verbal do Texto 3, o termo jurídico *esbulho* é o ato de
- A) afastamento de um ou de vários indivíduos pertencentes a uma coletividade, por questões políticas, doutrinárias etc.
 - B) remoção das etnias minoritárias de uma área promovendo a superioridade de um determinado grupo étnico dominante.
 - C) usurpação pelo qual uma pessoa é privada, ou espoliada, de coisa de que tenha propriedade ou posse.
 - D) separação mediante a qual indivíduos e grupos perdem o contato físico e social com outros indivíduos e grupos.
16. A linguagem utilizada pelo Juiz no Texto 3
- A) expressa a coloquialidade da linguagem oral.
 - B) demonstra o tom autoritário da fala do Juiz.
 - C) caracteriza o uso linguístico de uma região.
 - D) indica a classe social e o gênero do Juiz.

17. O Texto 3 expressa

- A) um posicionamento a favor do marco temporal.
- B) um posicionamento contrário ao marco temporal.
- C) uma crítica à posse de terras pelos indígenas.
- D) uma crítica ao uso de tratores em área indígena.

18. A expressão na face do Juiz indica

- A) hostilidade.
- B) ousadia.
- C) avareza.
- D) pânico.

19. A leitura do Texto 3 permite inferir que, entre seus personagens, existe

- A) amizade.
- B) respeito.
- C) confiança.
- D) cumplicidade.

20. É comum aos três textos desta avaliação

- A) o tipo textual.
- B) a temática.
- C) o gênero textual.
- D) a variação linguística.

QUESTÕES DE MÚLTIPLA ESCOLHA – MATEMÁTICA

21. Segundo o texto 1, “Em setembro, os índios já tinham encontrado acampamentos, espingardas e várias pilhas de madeira em uma área a 30 quilômetros da aldeia.” Considerando que um índio o qual foi da sua aldeia a esses acampamentos e, em seguida, retornou à aldeia, levando 12 horas para finalizar o percurso, a velocidade média, em km/h, que esse índio imprimiu foi de
- A) 6.
B) 7.
C) 5.
D) 8.
22. Um órgão fiscalizador estabeleceu como meta que a média aritmética das invasões em terras indígenas nos anos de 2017, 2018 e 2019 não ultrapassassem um valor predeterminado. Sabendo que, de acordo com o Texto 01, em 2017, foram registradas 96 invasões e, em 2018, foram registradas 111 invasões e se M é a média aritmética predeterminada, a expressão que indica o número de invasões I , em 2019, para que a meta não seja ultrapassada, deverá ser
- A) $I \geq 3M - 207$.
B) $I \leq 3M - 207$.
C) $I \leq M - 207$.
D) $I \geq M - 207$.
23. O texto 1 comenta que, de acordo com o Conselho Indigenista Missionário (Cimi), somente na terra indígena (TI) de Munduruku existem mais de 500 garimpos ilegais. Sabendo que a TI de Munduruku tem, aproximadamente, 2.400.000 hectares, se considerarmos o número exato de 500 garimpos ilegais, com 100 garimpeiros em cada garimpo, a densidade demográfica, em habitantes por hectare, dos garimpeiros na terra indígena de Muduruku é de
- A) $\frac{5}{24}$.
B) $\frac{5}{2400}$.
C) $\frac{5}{24000}$.
D) $\frac{5}{240}$.
24. Segundo o texto 1, o Ibama aplicou R\$ 10 milhões em multas contra acampamentos ilegais localizados na terra indígena Alto Rio Guamá. Supondo que os invasores não pagaram as multas e que, sobre elas, sejam cobrados juros mensais, no regime de juros simples, de 2% ao mês, o montante da dívida a ser paga, ao final de 2 anos, será de
- A) 14.800.000.
B) 14.400.000.
C) 15.400.000.
D) 15.800.000.

25. Ao ler o texto 1, que indica 96 invasões em terras indígenas em 2017 e 111 em 2018, um estudante desejou exprimir uma função afim que determinasse o número de invasões (N) em função do ano (x). Para estimar as invasões esperadas nos anos seguintes, caso o crescimento das invasões fosse linear, a função encontrada foi
- A) $N(x) = 15x - 30.300$.
B) $N(x) = 20x - 30.159$.
C) $N(x) = 20x - 30.300$.
D) $N(x) = 15x - 30.159$.
26. Objetivando coibir as invasões em terras indígenas, os agentes de fiscalização organizaram três grupos de patrulhamento dessas terras. Considerando que o primeiro grupo passava por determinada aldeia a cada 3 dias, o segundo grupo, a cada 4 dias e o terceiro grupo, a cada 6 dias, se os três grupos passaram nessa aldeia hoje, eles passarão, todos no mesmo dia, novamente, daqui a
- A) 12 dias.
B) 14 dias.
C) 16 dias.
D) 18 dias.
27. Suponha que, por determinação de um juiz, os R\$ 10 milhões em multas aplicadas aos acampamentos ilegais devam ser gastos na seguinte proporção: um quarto deverá ser destinado ao Ibama, dois quintos do que sobrou à Polícia Federal e o restante à Funai, o valor repassado à Funai foi de
- A) 4,0 milhões.
B) 4,5 milhões.
C) 3,5 milhões.
D) 5,0 milhões.
28. Em uma audiência para se discutir a situação dos garimpos ilegais em terras indígenas estavam presentes 50 manifestantes, dentre indígenas e garimpeiros. Como a população indígena era significativamente menor na região, um repórter observou que a razão entre o número de indígenas e o de garimpeiros presentes na audiência era de um para quatro. O total de indígenas que estavam presentes na audiência era de
- A) 14.
B) 18.
C) 22.
D) 10.
29. Um órgão ambientalista observou que um grupo de garimpeiros ilegais estava desmatando o equivalente a 300 campos de futebol em 30 dias e que, após uma campanha de fiscalização, o grupo de garimpeiros se reduziu a dois terços do número original. Admitindo que os garimpeiros restantes, após a campanha de fiscalização, mantiveram o mesmo ritmo de desmatamento de antes, o tempo, em dias, que eles levarão para desmatar o equivalente a 300 campos de futebol será
- A) 30.
B) 60.
C) 45.
D) 75.

30. Um cartógrafo deseja representar a área desmatada por garimpos ilegais em uma terra indígena. Observando que a área tem forma retangular, ele conclui que o comprimento da região desmatada é quatro vezes a largura da mesma e que o total desmatado foi de 256 hectares (ha). Sabendo que $1\text{ha} = 10.000\text{ m}^2$ e que a representação será feita na escala 1:10.000, as dimensões representadas no desenho do cartógrafo terão largura e comprimento, em cm, respectivamente, iguais a

- A) 8m e 32m.
- B) 6cm e 24cm.
- C) 6m e 24m.
- D) 8cm e 32cm.

31. Analisando o gráfico do **Texto 2**, a única afirmação correta é:

- A) em todas as regiões os percentuais são menores que 40%.
- B) a diferença entre os percentuais referentes às regiões sul e sudeste é maior que 5%.
- C) o percentual referente à região norte é menor do que a soma dos percentuais das demais regiões.
- D) o percentual médio de terras indígenas regularizadas nas cinco regiões é de 20%.

32. Um internauta encontrou no *site* Fundo Brasil o convite para fazer doações mensais e ajudar os povos indígenas. A **Figura 1**, mostra o convite com os possíveis valores de doação. O internauta deseja doar um total de R\$ 540,00, com a menor mensalidade possível, ao longo do maior número de meses e de modo que não ultrapasse mais de 12 meses. Para atender todas as condições, o internauta deve escolher fazer a doação no valor de

Figura 1

Figura adaptada para fins pedagógicos.

Disponível em:

https://doe.fundobrasil.org.br/sos-amazonia-site-institucional/single_step

- A) R\$ 30,00.
- B) R\$ 100,00.
- C) R\$ 45,00.
- D) R\$ 60,00.

33. No **Texto 1**, cerca de dois mil índios vivem na terra indígena Alto Rio Guamá. A representação desse mesmo quantitativo em notação científica é dada por

- A) $20 \cdot 10^2$.
- B) $2 \cdot 10^3$.
- C) $0,2 \cdot 10^4$.
- D) $0,02 \cdot 10^5$.

34. A Tabela 1 mostra o resultado de uma pesquisa de opinião com 35 estudantes sobre qual é o problema mais grave, dentre os destacados no relatório de violência e invasões nas terras indígenas, abordado no **Texto 1**. Escolhendo-se, ao acaso, uma pessoa desse grupo, a probabilidade que essa pessoa tenha opinado por desmatamento é de

- A) $\frac{11}{35}$.
 B) $\frac{3}{35}$.
 C) $\frac{1}{35}$.
 D) $\frac{20}{35}$.

Tabela 1- Problemas destacados nas invasões de terras indígenas

Problemas abordados	Nº de alunas (meninas)	Nº de alunos (meninos)
Grilagem de Terra	10	2
Desmatamento	3	8
Garimpo Ilegal	1	4
Contaminação dos Rios	1	6
Total	15	20

35. A **Figura 2** mostra dez troncos de madeira, hipoteticamente idênticos, em formato de cilindros retos, empilhados, cujas medidas de diâmetro e altura são, respectivamente, 20 centímetros e 1,0 metro. Considerando $\pi = 3.14$, o volume de madeira, em m^3 , correspondente a todos os troncos empilhados é de

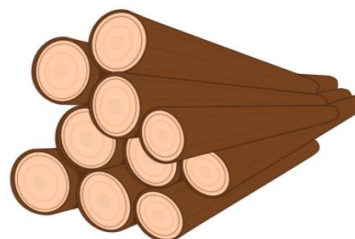


Figura 2

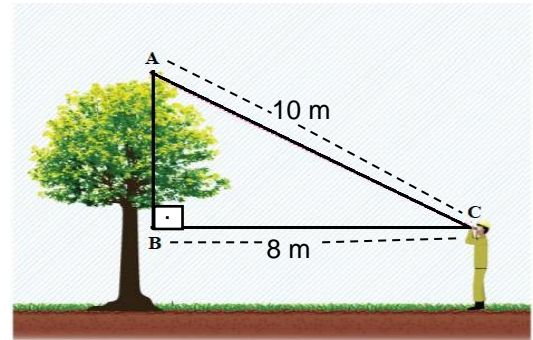
Figura criada pelo elaborador.

- A) 628.
 B) 0,314.
 C) 1,26.
 D) 35.

36. De acordo com o **Texto 1**, no ano de 2017, houve 96 invasões em terras indígenas, em 2018, o número subiu para 111 e, em 2019, foi para 160, somente no mês de janeiro. Supondo que tivesse sido preservado o mesmo percentual de aumento do ano de 2018, o número aproximado de invasões, para todo o ano de 2019, teria sido igual a

- A) 146.
 B) 126.
 C) 128.
 D) 138.

37. Um guarda florestal responsável por fiscalizar uma determinada área de preservação ambiental identificou as medidas dos lados \overline{AC} e \overline{BC} do triângulo retângulo ABC, como também o ponto A, considerando-o o ponto mais alto de uma determinada árvore, de acordo com a **Figura 3**. Sabendo que o guarda florestal, tem, aproximadamente, 1,68 m de altura, a medida, em metros, da altura da árvore é de



- A) 6,0.
B) 6,86.
C) 7,68.
D) 7,0.

Figura 3

Figura adaptada para fins pedagógicos.
Disponível em:

<https://www.florestal.gov.br/documentos/informacoes-florestais/inventario-florestal-nacional-ifn/documentos/manual-de-campo-ifn/3202-anexo-6-procedimentos-para-medicao-de-altura/file>

38. Supondo que a aldeia dos Munduruku, mencionados no **Texto1**, tem o formato de um círculo de diâmetro igual a 600 metros, a medida da área desse círculo, em m^2 , é dada por

- A) 360000π .
B) 30000π .
C) 120000π .
D) 90000π .

39. Para medir a largura \overline{DE} de um lago, dentro de um garimpo desativado, foi utilizado o esquema da **Figura 4**. Observando-se que o $\Delta ABC \sim \Delta EDC$, a expressão que determina o valor de \overline{DE} é dada por

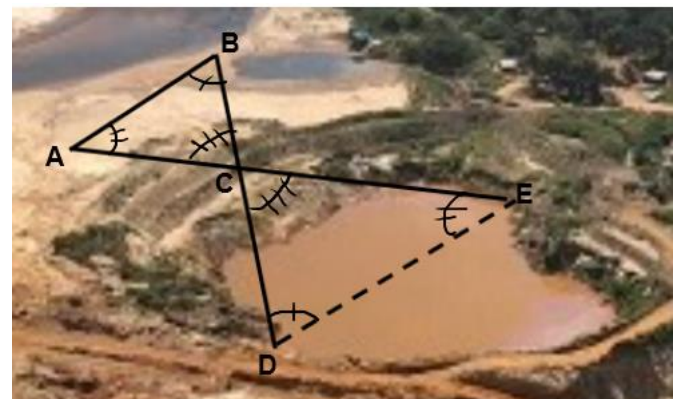


Figura 4

Figura adaptada para fins pedagógicos.
Disponível em:

<https://congressoemfoco.uol.com.br/tema/meio-ambiente/governo-estuda-medidas-para-regularizar-garimpo-clandestino/>

- A) $\frac{\overline{AC} \cdot \overline{EC}}{\overline{AB}}$.
B) $\frac{\overline{AB} \cdot \overline{AC}}{\overline{CE}}$.
C) $\frac{\overline{AB} \cdot \overline{CD}}{\overline{BC}}$.
D) $\frac{\overline{BC} \cdot \overline{CE}}{\overline{AC}}$.

40. O **Texto 1** registra os números de invasões em terras indígenas nos anos de 2017, 2018 e no período de janeiro a setembro de 2019. O valor total de invasões registradas nos três anos tem a sua representação no sistema binário dada por

- A) $(110101101)_2$.
- B) $(101101111)_2$.
- C) $(101111010)_2$.
- D) $(111100110)_2$.

PROPOSTA DE PRODUÇÃO TEXTUAL

Proposta

Considerando os textos desta prova, o seu conhecimento prévio e a polêmica levantada pelos textos sobre a posse das terras indígenas, escreva um **artigo de opinião**, assumindo um ponto de vista sobre a seguinte questão: **as terras indígenas devem ser protegidas pelo governo brasileiro?** Assine a sua produção textual com o pseudônimo de **Potiguar da Silva**.

ORIENTAÇÕES E CRITÉRIOS DE CORREÇÃO

Ao escrever seu texto, use caneta esferográfica azul ou preta, escreva com letra legível e identifique-se apenas no local indicado. Você poderá utilizar informações presentes na prova, sem, contudo, se limitar a copiar integralmente trechos desta avaliação. Além disso, não faça desenhos e/ou marcas na Folha de Resposta da questão discursiva.

Lembre-se de que seu texto será avaliado, levando-se em consideração os seguintes critérios:

- A) produção do gênero textual proposto no comando da questão;
- B) presença de marcas características do gênero textual solicitado;
- C) uso da variedade linguística adequada ao gênero textual solicitado e à situação de comunicação;
- D) uso adequado de elementos coesivos;
- E) manutenção da progressão temática;
- F) coerência entre o ponto de vista defendido e os argumentos apresentados;
- G) consistência argumentativa.

Você será penalizado em até 10 (dez) pontos se, em sua produção textual, desrespeitar os direitos humanos.

Sua produção só será corrigida se tiver mais de 08 (oito) linhas autorais.

RASCUNHO

1	
2	
3	
4	
5	
6	
7	
8	
9	
10	
11	
12	
13	
14	
15	
16	
17	
18	
19	
20	
21	
22	
23	
24	
25	
26	
27	
28	
29	
30	